



República de Honduras
Secretaría de Educación

Pruebas Formativas Mensuales

Ciencias Sociales

4^{to}
Grado

Año 2014

Nombre del Alumno(a): _____

Nombre del Maestro(a): _____

Departamento: _____ Municipio: _____

Escuela: _____

Presentación

Estimado alumno o alumna:

Tenemos el gusto de presentarle el Cuaderno de las Pruebas Formativas mensuales de Ciencias Sociales del presente año escolar, para que pueda saber cuánto ha aprendido durante cada mes y en qué necesita ayuda.

Al finalizar cada mes, su profesor o profesora, le entregará su cuaderno para que desarrolle la prueba que corresponde a ese mes.

En los ítems o ejercicios de Selección Única, leerá la pregunta y luego seleccionará, entre las opciones, la respuesta correcta. En los otros tipos de ítems, se explica claramente lo que debe hacer en cada uno de ellos.

Si contesta correctamente, todas o la mayoría de las preguntas, esto indicará que va por buen camino y que su nivel de rendimiento es Avanzado. Con esto no solo obtiene satisfacción personal, sino que también tendrá la oportunidad de ayudar a sus compañeros y compañeras que todavía no han logrado un buen rendimiento en los conocimientos del mes.

Si al contestar las preguntas encuentra alguna dificultad, significa que necesita más estudio y quizá ayuda de su maestro o maestra o de los estudiantes avanzados. Es importante recordar que el estudio de las Ciencias Sociales, no solo es fascinante, sino que ayuda a conocer más el funcionamiento de la sociedad y sus actividades económicas, la geografía e historia del país, de la región Centroamericana y el mundo. Además se aprenden los valores humanos que nos orientan a construir una sociedad más justa y moderna.

Informe a su mamá, a su papá u otros familiares sobre sus resultados en cada prueba, en qué aspectos va muy bien y en cuáles necesita más apoyo.

Sus padres, maestros y maestras, compañeros y compañeras, constituyen un gran respaldo para seguir adelante.

1 Cuando nos proponemos planes para realizarlos a futuro estamos hablando de:

- A. Proyecto de vida.
- B. Metas alcanzadas.
- C. Actividades de vida.
- D. Acciones realizadas.

2 Los derechos humanos se promueven y defienden mediante la siguiente acción:

- A. Establecer diferencias entre las personas ricas y pobres.
- B. Respetando a cada ser humano sin distinción de sexo, raza, religión.
- C. Expresando nuestras opiniones rayando las paredes de casas y edificios.
- D. Utilizando expresiones ofensivas para las autoridades del país.

3 ¿Qué derecho gozamos todos sin importar raza, religión, género?

- A. Solidaridad
- B. Igualdad
- C. Honestidad
- D. Compañerismo

4 ¿Por qué son importantes los Derechos Humanos?

- A. Se utilizan para crear leyes.
- B. Se aplican cuando hay guerra.
- C. Permiten el desarrollo de la vida plena y digna.
- D. Es la ley fundamental de un Estado.

5 Los alumnos de cuarto grado se preparan para las elecciones del Gobierno Estudiantil, ellos tienen dos candidatos y cada quien elegirá el de su preferencia. Los alumnos deben decidir por uno de los candidatos, por lo que ejercerán el siguiente derecho:

- A. Opinar
- B. Seguridad
- C. Sufragio
- D. Libertad

6 Organismo creado para buscar la integración legislativa de los países Centroamericanos:

- A. Organización para la agricultura y la alimentación (FAO).
- B. Banco Centroamericano de Integración Económica (BCIE).
- C. Organización de Estados Americanos (OEA).
- D. Parlamento Centroamericano (PARLACEN).

7 Cuando una persona mantiene una coherencia entre los pensamientos, opiniones y acciones; ¿Qué cualidad tienen?

- A. Honrado
- B. Integro
- C. Honesto
- D. Sincero

8 A la valoración que las personas tienen de sí mismas se le llama:

- A. Integridad
- B. Responsabilidad
- C. Puntualidad
- D. Autoestima

9 ¿Cómo se le llama a la ciencia que estudia las acciones, reacciones y correlaciones de un pueblo, clima y los seres vivos?

- A. Antropología
- B. Geografía
- C. Geología
- D. Cosmografía

10 ¿De qué hacemos uso para ubicar cualquier punto de la tierra?

- A. Los continentes y océanos.
- B. Las coordenadas geográficas.
- C. Países y ciudades.
- D. Rosa náutica.

11 Honduras tiene costas en ambos océanos por eso es un país:

- A. Meridional
- B. Septentrional
- C. Bioceánico
- D. Occidental

12 ¿Cuál es el país más extenso de Centro América?

- A. Guatemala
- B. Nicaragua
- C. Honduras
- D. Costa Rica



13 Ubique en un mapa de América las coordenadas geográficas de Honduras:

- A. 5° norte hasta 10° norte y 20° este hasta 24° este.
- B. 13° norte hasta 16° norte y 83° oeste hasta 89° oeste.
- C. 25° sur hasta 36° sur y 120° este hasta 140° este.
- D. 15° norte hasta 21° norte y 90° oeste hasta 98° oeste.

14 ¿Cómo se le llama a la línea imaginaria que divide a la tierra en dos hemisferios: norte y sur?

- A. El meridiano cero.
- B. El trópico de cáncer.
- C. Trópico de capricornio.
- D. El Ecuador.

15 Uno de los objetivos de las organizaciones políticas de la región centroamericana es:

- A. Establecer vínculos de integración para estrategias contra la corrupción.
- B. Planificar estrategias para disminuir los impuestos sobre ventas.
- C. Establecer vínculos de ayuda para luchar contra la devaluación.
- D. Buscar soluciones a los problemas comunes del mundo.

16 El Consejo Superior Universitario Centroamericano procura:

- A. Fomento de la educación privada.
- B. El liderazgo de las universidades públicas.
- C. La matrícula gratis.
- D. La matrícula pagada.

17 Por su ubicación geográfica Honduras tiene la siguiente característica:

- A. Posee comunicación con ambos océanos.
- B. Es un país con mucha producción industrial.
- C. Las temperaturas son bajas.
- D. Es un país poco montañoso.

18 ¿Qué país de Centroamérica, solo tiene costas en el océano pacífico?

- A. El Salvador
- B. Costa Rica
- C. Belice
- D. Panamá



19 La ciudad capital de Costa Rica se llama:

- A. Managua
- B. San José
- C. Belmopán
- D. San Salvador

20 Este sistema se estableció para evitar problemas y confusiones con la hora en los distintos países:

- A. Hemisferios
- B. Meridianos
- C. Husos horarios
- D. Paralelos

1 ¿Qué valor humano demuestro cuando cumplo con mis tareas escolares?

- A. Amistad
- B. Amor
- C. Cooperación
- D. Responsabilidad

2 Si evito ofender o agredir a una persona, demuestro este valor humano:

- A. De igualdad
- B. De no discriminación
- C. De libertad
- D. De no violencia

3 ¿Qué actitud debe tener cada persona para alcanzar el éxito?

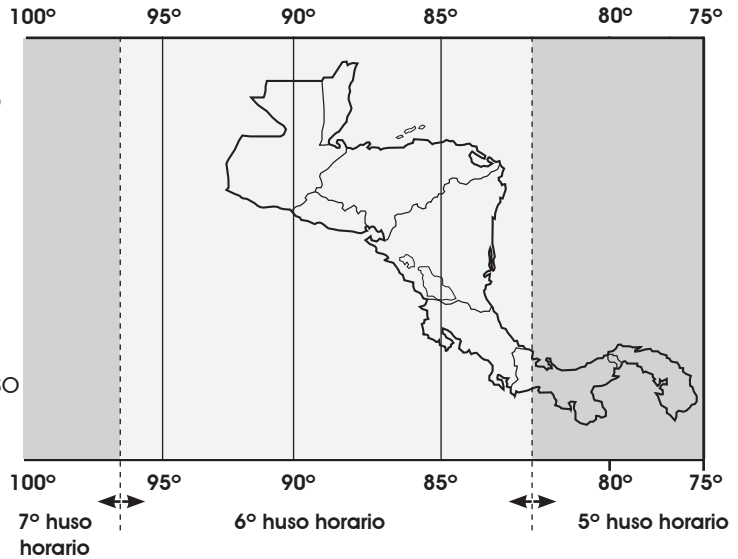
- A. Levantarse tarde todos los días.
- B. Dependen de otros para realizar una actividad.
- C. Saber que cosas hacer bien y que puede mejorar.
- D. Esperar que otros decidan por mi.

4 La latitud solo puede ser:

- A. Norte o Sur
- B. Sur o Este
- C. Norte u Oeste
- D. Sur u Oeste

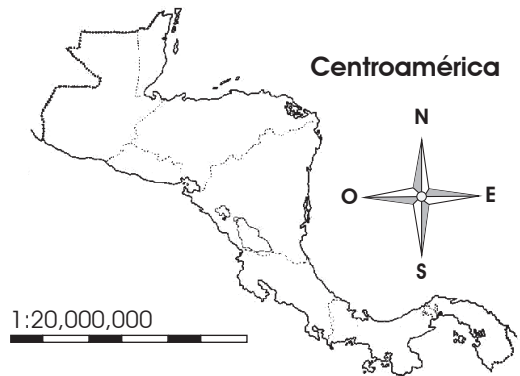
5 ¿En qué huso horario se encuentra ubicado Centro América?

- A. Cuarto huso horario.
- B. Quinto huso horario.
- C. Sexto huso horario.
- D. Séptimo huso horario.



6 ¿Qué elemento en el mapa muestra el norte?

- A. La fuente
- B. Simbología
- C. Escala
- D. Orientación



7 ¿A partir de que meridiano se miden los husos horarios?

- A. Greenwich
- B. Ecuador
- C. Capricornio
- D. Cáncer

8 ¿Cuál de los siguientes elementos del mapa informa de donde se obtuvo el mapa?

- A. La escala
- B. La simbología
- C. La orientación
- D. La fuente

9 La maestra le ha pedido a Pedro un plano donde pueda representar la región de Centroamérica y se pueda ver la latitud y longitud para estudiar mejor esta región de América. Pedro ha decidido utilizar la siguiente representación de la tierra:

- A. La esfera
- B. El mapa
- C. Una foto
- D. Un croquis

10 La maestra y los alumnos de cuarto grado de la Escuela Honduras de Francisco Morazán, están planificando una gira educativa que les permita conocer más de la civilización maya, para ello han decidido visitar un lugar donde el clima es agradable, se produce el tabaco y lo más importante es el lugar donde se encuentra el principal sitio arqueológico de los antiguos mayas en Honduras.

¿Cuál es el lugar que visitarán?

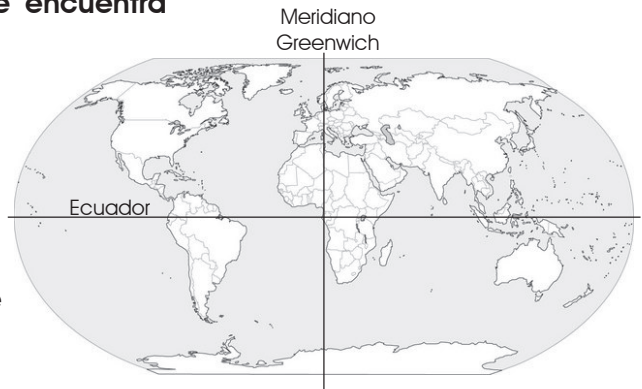
- A. Copán
- B. Cortés
- C. Ocotepeque
- D. Comayagua

11 ¿Cuál es la isla más grande de Centroamérica Insular?

- A. Jamaica
- B. Puerto Rico
- C. Haití
- D. Cuba

12 ¿En qué hemisferio se encuentra Honduras?

- A. Hemisferio Meridional
- B. Hemisferio Sur
- C. Hemisferio Este
- D. Hemisferio Norte



13 ¿Organización regional a la que Honduras perteneció?

- A. TLC
- B. ALBA
- C. ALCA
- D. MERCOSUR

14 ¿Cuál de estas es la organización regional que forma parte Honduras?:

- A. Organización de las Naciones Unidas (ONU).
- B. Organización de Estados Americanos (OEA).
- C. Fondo Monetario Internacional (FMI).
- D. Mercado Común Centroamericano (MERCOSUR).

15 ¿Por qué es importante para Honduras pertenecer a organizaciones centroamericanas?

16 Las siguientes son características propias de un líder:

- A. _____
- B. _____
- C. _____
- D. _____

- 1** ¿Cómo se les llama a las cualidades, virtudes o ideales que poseen las personas?
- A. Leyes
 - B. Educación
 - C. Valores
 - D. Sentimientos
- 2** ¿Cuál es el valor que permite la constancia hasta lograr lo que emprendemos?
- A. Responsabilidad
 - B. Ecuanimidad
 - C. Honestidad
 - D. Perseverancia
- 3** ¿Qué valores se practican al realizar un deporte y lograr una convivencia armónica?
- A. Sociales y morales.
 - B. Morales y religiosos.
 - C. Éticos y sociales.
 - D. Éticos y religiosos.
- 4** ¿Cómo se le llama al afecto personal desinteresado y recíproco que nace y se fortalece con el trato?
- A. La bondad
 - B. La solidaridad
 - C. La amistad
 - D. La generosidad

5 ¿Cuándo se Practica la generosidad?

- A. Damos de lo que tenemos a los que lo necesitan.
- B. Damos lo que nos sobra a los que lo necesitan.
- C. Regalamos las cosas que no necesitamos.
- D. Regalamos las cosas que ya no nos sirven.

6 ¿Qué institución social establece las bases en la formación de los valores?

- A. La escuela
- B. La comunidad
- C. La familia
- D. La iglesia

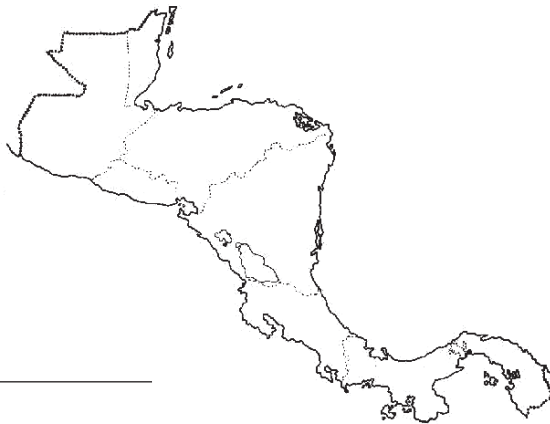
7 ¿Cómo se le llama a la disposición interna que todo individuo tiene al defender los intereses de la patria?

- A. Ética
- B. Religión
- C. Civismo
- D. Moral

8 ¿Cuál es una las ventajas de la posición geográfica de Honduras?

- A. Su ubicación estratégica permite la comunicación centroamericana.
- B. Es el país con el territorio más extenso de Centroamérica.
- C. Su posición le permite gran irrigación en la región del pacífico.
- D. Es el territorio más montañoso de los países de Centroamérica.

- 9 Coloque el nombre de los países que tienen frontera terrestre con Honduras:



- A. _____
B. _____
C. _____

- 10 Una de las características geográficas de Honduras es:

- A. Es el segundo país en extensión territorial.
 B. Posee gran cantidad de volcanes activos.
 C. Posee numerosos lagos.
 D. Es un país con relieve bastante plano.

- 11 En cuanto a fronteras marítimas Honduras posee las siguientes características:

- A. No posee territorio marítimo.
 B. Es el país con menos territorio marítimo.
 C. Posee frontera marítima con México y Colombia.
 D. Su territorio marítimo está delimitado completamente.

12 ¿Cuál de estos países centroamericanos posee la mejor red de ferrocarriles de Centro América?

- A. Nicaragua
- B. Costa Rica
- C. El Salvador
- D. Guatemala

13 ¿Qué caracteriza la hidrografía de Centroamérica?

- A. Son ríos cortos y poco caudalosos.
- B. No poseen variedad de peces.
- C. Sirven para producir energía térmica.
- D. Sirven para generar energía hidroeléctrica.

14 ¿Qué significado tiene el uso racional de los recursos naturales?

- A. Hacemos uso adecuado del recurso.
- B. Seleccionamos el recurso de más variedad.
- C. Utilizamos un solo recurso hasta agotarlo.
- D. Consumimos solo lo que produce la región.

15 Es una de las organizaciones creadas en Honduras para colaborar en la prevención de desastres naturales:

- A. La organización de estados americanos (OEA).
- B. La organización mundial de la salud (OMS).
- C. La comisión permanente de contingencias (COPECO).
- D. Fondo Monetario Internacional (FMI).

16 ¿Cuál de estas regiones es la de mayor inundación en Honduras?

- A. Región oriental.
- B. Región occidental.
- C. Región norte.
- D. Región sur.

1 ¿Cuál es una característica principal de la población Centroamericana?

- A. Su esperanza de vida es de las más altas del continente.
- B. Pluriétnica y multicultural.
- C. La mayoría tiene títulos universitarios.
- D. Sus salarios son los más altos del mundo.

2 ¿Cuál de los países centroamericanos se caracteriza porque su economía posee una gran actividad industrial?

- A. Panamá
- B. Belice
- C. Guatemala
- D. Costa Rica

3 ¿Cómo se le llama a los artículos que se producen en mayor cantidad de lo que se necesitan?:

- A. Productos de consumo.
- B. Comercialización.
- C. Materias primas.
- D. Producto excedente.

4 ¿Cómo se le llama al tipo de agricultura dedicada a atender las necesidades alimenticias de una población?

- A. Comercial o de exportación.
- B. Industrial.
- C. Consumo o subsistencia.
- D. Manufactura.

- 5** ¿Cómo se les llama a las huellas dejadas por el ser humano a su paso por el espacio y el tiempo?
- A. Ciencias auxiliares
- B. Arqueología
- C. Antropología
- D. Fuentes de datos
- 6** ¿Qué tipo de fuente son los documentos escritos por los conquistadores?
- A. Primaria
- B. Secundaria
- C. Directa
- D. Indirecta
- 7** ¿Cuál es la fuente a la que pertenecen las tumbas y construcciones de los mayas?
- A. Orales
- B. Escritas
- C. Espirituales
- D. Arqueológicas
- 8** Si la Historia es la ciencia que narra los acontecimientos pasados relativos al hombre y a las sociedades humanas, ¿Qué importancia tiene para nosotros conocer sobre el pasado de la humanidad a través de la Historia?

9 Si en la escuela te piden realizar una investigación sobre la Historia de tu comunidad, ¿Qué pasos, fuentes y ciencias auxiliares te ayudarían a realizar esta investigación?

10 ¿Cuál es el objetivo de las organizaciones políticas que existen en Centroamérica?

- A. Crear acuerdos de integración entre los países centroamericanos.
- B. Fortalecer vínculos entre los países del continente americano.
- C. Crear el consejo económico centroamericano.
- D. Formar el mercado común centroamericano.

11 ¿Cuál es la característica que diferencia a las clases sociales unas de otras?

- A. Ubicación geográfica.
- B. Nivel de vida.
- C. Cultura y educación.
- D. Ocupación.

12 ¿Qué clases sociales mantienen una relación de dependencia económica?

- A. Baja y media.
- B. Media y alta.
- C. Baja y alta.
- D. Media y media.

13 ¿Cómo se le llama a los ingresos que reciben los países centroamericanos de los emigrantes?

- A. Remesas
- B. Capital
- C. Ahorros
- D. Prestamos

14 ¿Cuál de estas actividades pertenecen al sector primario?:

- A. Salud, perfumes, carteras.
- B. Transporte, educación, salud.
- C. Electricidad, carteras, pesca.
- D. Pesca, ganadería, minería.

15 ¿Cómo se le llama al cambio de residencia que una persona puede realizar de manera voluntaria?

- A. Refugiados
- B. Repatriados
- C. Migración
- D. Extranjeros

1 ¿Qué quiere decir El artículo 13: de la Constitución de la República “Derecho a la libertad de tránsito y a la libre elección de residencia”?

- A. Expresar nuestra opinión libremente.
- B. Vivir y trasladarnos a cualquier lugar.
- C. Tener la residencia que necesitamos.
- D. Tener la licencia de conducir a los 15.

2 ¿Qué derechos humanos se lesionan con acciones de violencia en la sociedad?

- A. La vida e integridad.
- B. La libre expresión.
- C. La educación y vivienda.
- D. La personalidad jurídica.

3 ¿Cuál de estos tipos de industria ha logrado mayor grado de desarrollo en Centroamérica:

- A. Automotriz.
- B. Productos lácteos.
- C. Textil y cementera.
- D. Ensambladora.

4 ¿Cuál de estos países centroamericanos es el más industrializado?

- A. Guatemala
- B. Nicaragua
- C. Honduras
- D. El Salvador

5 ¿Cuál de estos ejemplos de recursos naturales es no renovable?

- A. Los animales
- B. Los minerales
- C. El bosque
- D. Las plantas

6 ¿Cuál es el país Centroamericano con mayor potencial minero?

- A. El Salvador
- B. Honduras
- C. Panamá
- D. Belice

7 ¿Cuál es la importancia de la región Centroamericana para las organizaciones que protegen el medio ambiente?

8 ¿Cuál de estas ciudades mayas ha sido considerada Patrimonio de la Humanidad por la UNESCO?

- A. Tulum
- B. Uxmal
- C. Uaxactun
- D. Copan

9 Los grupos étnicos de Centroamérica practicaban una religión politeísta, es decir que:

- A. Adoraban a varios dioses.
- B. Hacían ritos a la naturaleza.
- C. Hacían ritos ceremoniales.
- D. Creían en un solo dios.

10 ¿Qué elementos culturales de los mayas, se encuentran entre los más destacados?

- A. La escritura y las matemáticas.
- B. El idioma y sus costumbres.
- C. Su organización social.
- D. La organización política.

11 ¿Cuál fue el cultivo principal que tuvieron los grupos étnicos en Centro América?

- A. El algodón
- B. El frijol
- C. El maíz
- D. El camote

12 ¿Qué grupo étnico de Honduras es considerado el más antiguo?

- A. Chortis
- B. Pech
- C. Lencas
- D. Tolupanes

13 ¿Escriba tres consecuencias que trajo para los grupos étnicos, la llegada de los españoles?

A. _____

B. _____

C. _____

14 El siguiente fue uno de los factores que facilitó el proceso de colonización en Centro América:

- A. El deseo de poder que tenían los conquistadores.
- B. El mestizaje que se dio entre las distintas etnias.
- C. La mala administración durante el proceso de conquista.
- D. La división existente entre las diferentes tribus de indios.

15 Uno de los problemas culturales que tienen los pueblos indígenas de Centroamérica es:

- A. El desalojo de sus propias tierras.
- B. La pérdida de su propia identidad cultural.
- C. La organización sociopolítica.
- D. El crecimiento poblacional en las últimas décadas.

16 ¿Pueblo indígena que perdió su idioma y gran parte de su cultura?

- A. Lencas
- B. Tolupanes
- C. Misquitos
- D. Tawahkas

1 ¿Cuál de las siguientes acciones forma parte de nuestra responsabilidad como miembros de una comunidad:

- A. Respetar sólo a nuestros padres y hermanos.
- B. Respetar sólo a los profesores y compañeros.
- C. Ser puntual solo en nuestra casa.
- D. Ser corteses y respetuosos con las demás personas.

2 ¿En qué lugar se debe tener la responsabilidad de hacer las tareas?

- A. El parque.
- B. La casa.
- C. La cafetería.
- D. La pulpería.

3 ¿Qué características diferencian a los grupos sociales?

- A. Su actitud y estilo de vida.
- B. Sus costumbres y creencias.
- C. Sus derechos ciudadanos.
- D. Sus obligaciones ciudadanas.

4 ¿Qué condición tenemos los miembros de una comunidad?

- A. Respetar los edificios y propiedades privadas.
- B. Ser puntual para cumplir con las obligaciones.
- C. Tener los mismos derechos y obligaciones.
- D. Ser miembros de un mismo partido político.

5 ¿Cuál es el tipo de familia a la que pertenece la familia hondureña?

- A. Nuclear
- B. Matriarcal
- C. Biparental
- D. Extensiva

- 6** ¿Cómo se le llama al tipo de familia cuyos hijos no viven con sus padres pero sí con otros parientes?
- A. Biparental
 - B. Parental
 - C. Patriarcal
 - D. Uniparental
- 7** ¿Cuál es la región de Honduras donde se encuentran las vías férreas?
- A. Sur
 - B. Este
 - C. Norte
 - D. Oeste
- 8** ¿Cuál es el puerto de mayor importancia en la zona sur de Honduras?
- A. Cortés
 - B. Roatán
 - C. Henecán
 - D. Amapala
- 9** ¿Cuál de estas vías de comunicación se utilizan principalmente para el comercio internacional?
- A. Marítimos
 - B. Aeropuertos
 - C. Carreteras
 - D. Líneas férreas

10 ¿Cuál es el nombre que reciben los migrantes que llegan de un país a otro sin la documentación correcta?

- A. Repatriados
- B. Ilegales
- C. Refugiados
- D. Legales

11 Explique porque la ubicación geográfica de Honduras es importante en relación al comercio con otros países.

12 ¿Cuál es la característica común que tiene la población centroamericana?

- A. La mayor parte de la población vive en la ciudad.
- B. Desciende del mestizaje entre indígenas y europeos.
- C. Practican las mismas fiestas tradicionales.
- D. Su organización social es tipo cacicazgo y tribal.

13 ¿Cuál de los siguientes departamentos de Honduras posee un mayor crecimiento poblacional?

- A. Olancho
- B. Yoro
- C. Cortés
- D. La Paz

14 De la siguiente lista de productos y materias primas, marque con una I = los productos que son de importación y con una E = los productos que son de exportación:

Productos

Productos de importación (I) y exportación (E)

- Automóviles _____
- Minerales _____
- Café _____
- Petróleo _____
- Maderas preciosas _____
- Aparatos electrodomésticos _____

15 ¿Cuál de las siguientes representa una de las riquezas culturales de los países centroamericanos?

- A. Los productos industriales.
- B. La arquitectura maya.
- C. La actividad comercial.
- D. Los recursos naturales.

16 La economía de la mayoría de los pueblos indígenas de Honduras se caracteriza porque:

- A. Se orienta a la industrialización.
- B. Es básicamente de consumo agrícola.
- C. Está orientada a la comercialización.
- D. Se practica la explotación industrial.

1 ¿Cuál de los símbolos nacionales es el más representativo de nuestra patria?

- A. El Escudo.
- B. La Bandera.
- C. El Himno Nacional.
- D. El Árbol Nacional.

2 ¿Cuál es la actitud que nos lleva a amar y respetar a nuestra patria?

- A. Política
- B. Democracia
- C. Patriotismo
- D. Identidad

3 ¿Qué presidente de Honduras, fue promotor de la paz centroamericana?

- A. Carlos Roberto Flores.
- B. José Azcona Hoyo.
- C. Roberto Suazo Córdoba.
- D. Rafael Leonardo Callejas.

4 ¿Cómo se puede demostrar amor a la patria?

- A. Cumpliendo con nuestros deberes familiares.
- B. Colaborando con algunas personas.
- C. Respetando los derechos humanos.
- D. Cuidando los recursos económicos.

- 5** Escribe en las siguientes líneas como podemos los hondureños demostrar amor y respeto por nuestra patria:

- 6** ¿Qué se describe en la letra de Nuestro Himno Nacional?

- A. Lo que la Bandera representa.
- B. La historia de nuestro país.
- C. La canción que se hizo a la patria.
- D. Nuestras creencias y costumbres.

- 7** ¿Cómo se demuestra el respeto a las diferentes culturas?

- A. Ubicándolos en territorios de reservas indígenas.
- B. Proporcionándoles tierras para que la trabajen.
- C. Reconociendo sus derechos como ciudadanos.
- D. Permitiéndoles realizar sus actividades comerciales.

- 8** ¿Qué tipo de actividades productivas son las que predominan en la economía de los países centroamericanos?

- A. Industriales
- B. Agrícolas
- C. Construcción
- D. Servicios

9 El Salvador se caracteriza por exportar a los países Centroamericanos productos de tipo:

- A. Agrícola
- B. Pesca
- C. Industriales
- D. Ganaderos

10 ¿A qué se debe la relación de dependencia comercial entre los países centroamericanos?

- A. La falta de una política económica interna de los países.
- B. La variedad de productos de consumo diario que producen.
- C. Una economía nacional basada en la exportación.
- D. Los procesos de integración económica en la región.

11 Son tres causas que dieron origen a la dependencia comercial de los países centroamericanos con relación a los países desarrollados:

- A. _____
- B. _____
- C. _____

12 ¿Cuál es la finalidad de que Honduras sea miembro activo del Sistema de Integración Centroamericana (SICA)?

- A. _____
- B. _____
- C. _____

- 1** ¿Cuál de estas acciones representan la participación en forma democrática?
- A. Cuando la maestra le pide al estudiante que participe.
 - B. En las reuniones de padres de familia se elige la directiva de padres.
 - C. Nuestros padres deciden sobre nuestras cosas personales.
 - D. En los grupos de trabajo el mejor estudiante es el coordinador.
- 2** ¿Cuál de estas actividades económicas ayuda a transmitir la cultura de los grupos étnicos y mejora las condiciones de vida:
- A. La producción de ropa y calzado.
 - B. La producción artesanal.
 - C. La explotación de la minería.
 - D. La producción agrícola e industrial.
- 3** ¿Cuál de las actividades que podemos realizar en la escuela nos ayuda a fortalecer la identidad cultural?
- A. Realizar la feria de ciencias.
 - B. Participar en concursos de oratoria.
 - C. Aprender a bailar danzas folklóricas.
 - D. Participar en la campaña de aseo.
- 4** ¿Qué actitud nos permite desarrollar una cultura de paz y convivencia armónica?
- A. Imponiendo el orden a la fuerza.
 - B. Respetando y obedeciendo las leyes y normas.
 - C. Limitar nuestras acciones y opiniones.
 - D. Participando en los cumpleaños.

5 La convivencia armónica entre las personas de un país se logra a través de:

- A. El tráfico y venta de armas.
- B. El fanatismo religioso.
- C. La falta de oportunidades económicas.
- D. La aplicación de los derechos humanos.

6 ¿Cuál de las siguientes es una alternativa para mejorar la actividad económica en Centroamérica?

- A. Incrementar los impuestos de los productos de exportación.
- B. Aumentar los impuestos a las importaciones.
- C. Establecer en cada país los productos para la exportación.
- D. La planificación para el uso racional de los recursos naturales.

7 ¿Cuál es la moneda que más se usa entre países?

- A. El Córdoba
- B. El Euro
- C. El Dólar
- D. El Quetzal

8 La moneda de la República de Guatemala es:

- A. El Lempira
- B. El Córdoba
- C. El Dólar
- D. El Quetzal

9 ¿Cuál es un objetivo de los gobiernos de los países centroamericanos?

- A. Tener una adecuada y eficaz seguridad social en la región.
- B. Crear una sola moneda para todos los países.
- C. Seleccionar un solo mercado de exportación de productos.
- D. Desarrollar una sola economía entre los países.

- 10** ¿Qué motivo importante tienen los gobiernos de los países centroamericanos para relacionarse entre sí?
- A. Buscar estrategias para combatir el hambre y la pobreza.
 - B. Compartir las ganancias que tienen de los productos exportados.
 - C. Negociar la explotación de los recursos naturales de la región.
 - D. Establecer los límites que deben tener en el mercado internacional.
- 11** La democracia participativa se practica cuando:
- A. Buscamos el beneficio de todos y no el individual.
 - B. Nuestras ideas están por encima de los demás.
 - C. La ley y el orden se impone mediante la fuerza.
 - D. Las decisiones las toma un solo grupo social.
- 12** ¿Cuál es el tipo de sistema de gobierno que practican elecciones populares como vía para elegir a quienes gobiernan?:
- A. Autoritario
 - B. Dictatorial
 - C. Monárquico
 - D. Democrático
- 13** La práctica de esta actividad ya sea en la escuela o en nuestra comunidad ayuda y evita que perdamos parte de nuestras costumbres:
- A. Estudiar en la biblioteca.
 - B. Jugar los juegos tradicionales.
 - C. Ver programas de televisión.
 - D. Aprender computación.

14 La paz en nuestro país se puede lograr practicando:

- A. El respeto y tolerancia hacia los demás.
- B. Construir muros en nuestras casas.
- C. Colocar alarmas en los comercios.
- D. Tomando la ley en nuestras manos.

15 Escribe en los espacios a continuación dos posibles soluciones que puede evitar el desplazamiento de la población hacia otros países.

A. _____

B. _____

16 ¿Por qué es importante que cada país tenga su propia moneda en el comercio internacional?

Estos materiales son posibles gracias al apoyo técnico del Proyecto Mejorando el Impacto al Desempeño Estudiantil de Honduras (MIDEH) financiado por pueblo y gobierno de Estados Unidos de América a través de la Agencia de Estados Unidos para el Desarrollo Internacional (USAID).

